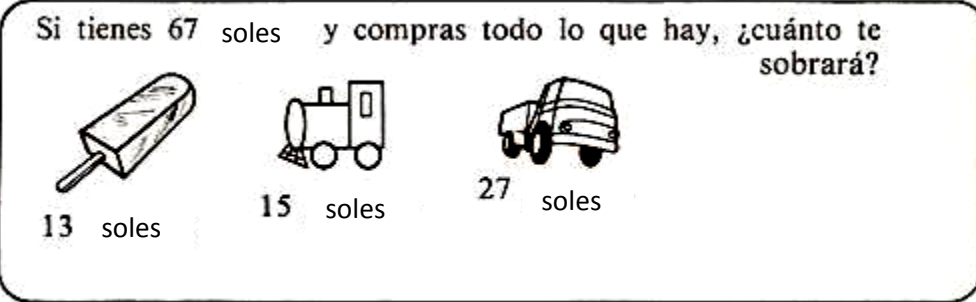



PROBLEMAS


Resuelve los siguientes problemas.



Los dos pesan lo mismo y juntos 1 236 kilos. ¿ Cuánto pesa cada toro ?




¿ Cuánto vale la jirafa ?



104 soles



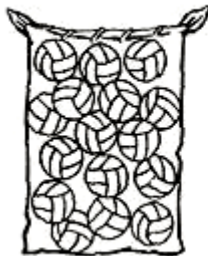
¿ Cuántos litros repartirá, por igual, en cada surtidor de gasolina?



Cada pasajero paga 275 soles ¿ Cuánto les cobrará el conductor en total ?



¿Cuántas pelotas corresponderán a cada niño?



Si desean repartirlas en cantidades iguales.