

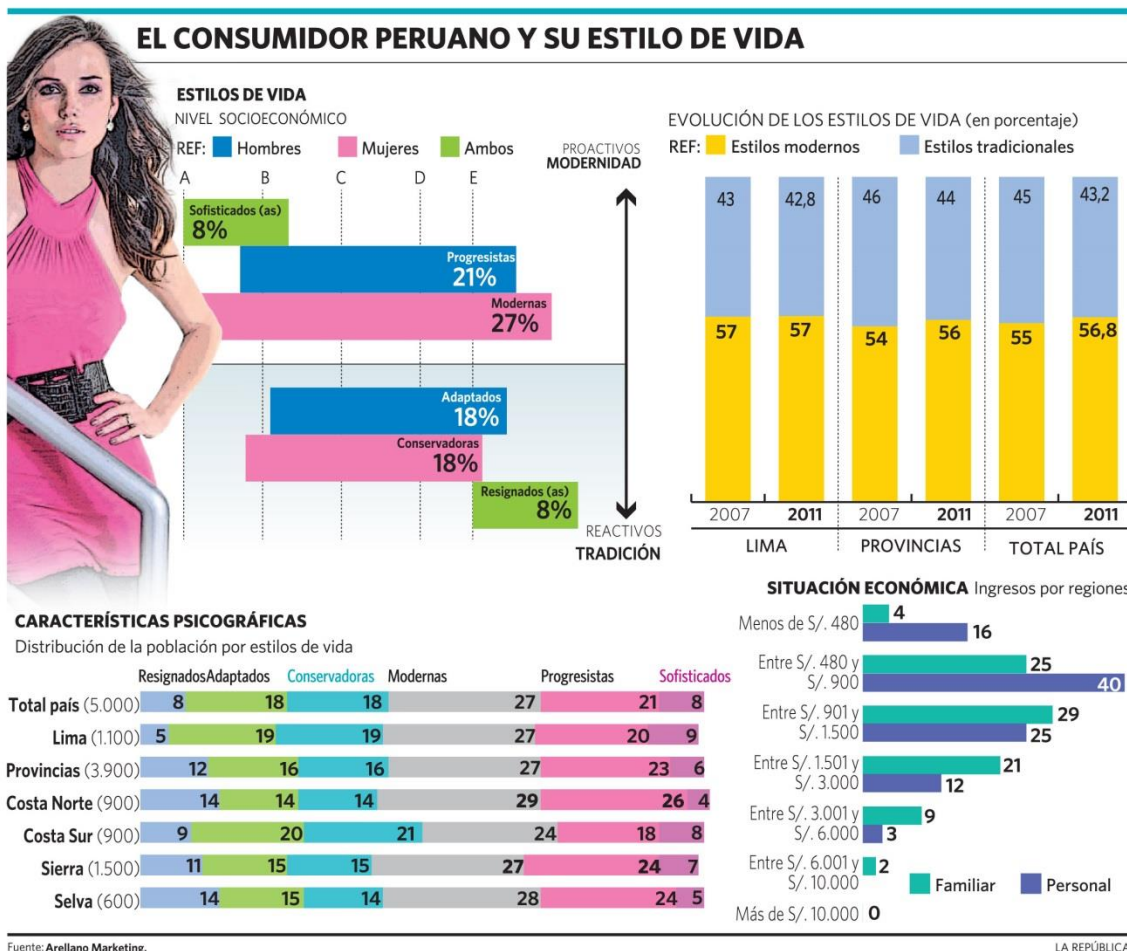
TEXTOS DISCONTÍNUOS

A CONTINUACIÓN, TE PRESENTO UN GRUPO DE TEXTOS DISCONTÍNUOS QUE PERMITIRÁN PROFUNDICES TUS HABILIDADES DE OBSERVACIÓN, IDENTIFICACIÓN Y ANÁLISIS.

PARA RECORDAR... ¿QUÉ ES UN TEXTO DISCONTÍNUO?

Es aquel que no sigue la estructura secuenciada y progresiva, que sí se evidencian en los textos lineales (un cuento por ejemplo) Se trata de textos que manifiestan una estructura particular, por ejemplo cuadros, gráficos, diagramas, tablas, mapas, etc. En estos textos, la información se presenta organizada, pero no necesariamente secuenciada ni de forma progresiva.

Texto 1 LEE LOS SIGUIENTES TEXTOS Y SUBRAYA LAS RESPUESTAS CORRECTAS.



- Por la forma en la que la información es presentada, se puede asumir que el texto es:
 - Argumentativo
 - Reiterativo
 - Aleccionador

- D. Descriptivo
- E. Persuasivo

2. Conforme a la información ofrecida en el texto anterior, es posible afirmar que:

- A. La proactividad tiene que ver con la tradición.
- B. En Lima es mayor el porcentaje de resignados.
- C. Más allá de los 1500 soles, es mayor el ingreso de la familia que el personal.
- D. Los adaptados suelen ser, en su mayoría, mujeres.
- E. El grueso de los peruanos es más tradicional.

3. Se deduce del texto que:

- A. Los peruanos tienden, aunque lentamente, a ser más modernos.
- B. Maju Mantilla es una progresista.
- C. Los resignados se encuentran en todos los niveles socioeconómicos.
- D. Los sofisticados se encuentran en todos los niveles socioeconómicos.
- E. Hay más conservadoras que modernas en el país.

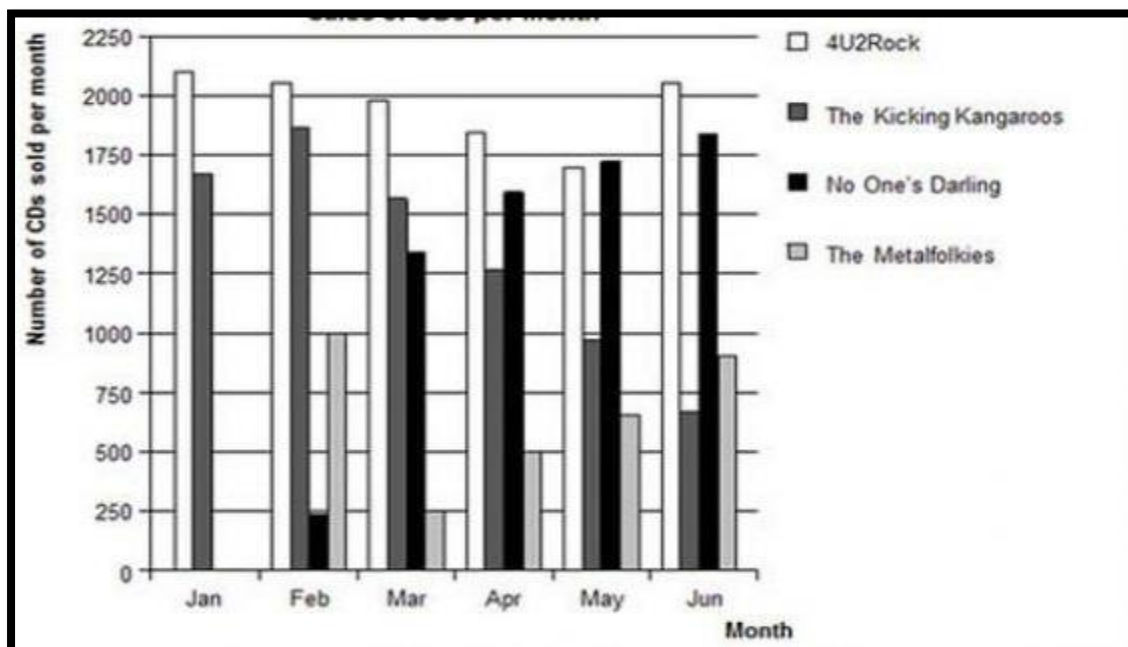
4. Es compatible con el texto afirmar:

- A. Existe cierta relación entre estilo de vida y nivel socioeconómico.
- B. Hay más sofisticados hombres que mujeres.
- C. La sierra es la región más conservadora del país.
- D. Puede existir un adaptado del nivel socioeconómico A
- E. Los estilos de vida no están evolucionando.

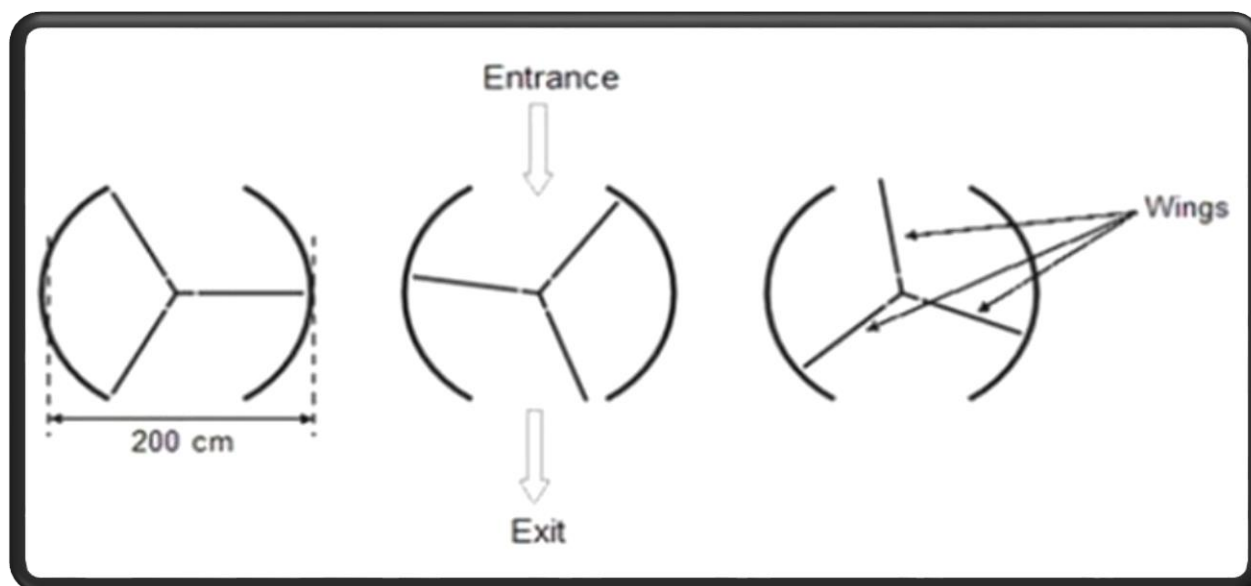
5. Es posible que el texto anterior sea de un estudio:

- A. Lingüístico
- B. Demográfico
- C. Político
- D. Económico
- E. Religioso

Texto 2



Model:	Alpha	Bolte	Castel	Dezal
Year	2003	2000	2001	1999
Advertised price (zeds)	4800	4450	4250	3990
Distance travelled (kilometres)	105 000	115 000	128 000	109 000
Engine capacity (litres)	1.79	1.796	1.82	1.783



6. En enero, los nuevos CDs de las bandas 4U2Rock y The Kicking Kangaroos salieron a la venta. En febrero, los CDs de las bandas No One's Darlin y The Metalfonkies los siguieron. El gráfico arriba muestra las ventas de las bandas desde enero hasta junio. ¿En qué mes No One's Darling vendió más CDs que The Kicking Kangaroos por primera vez? (Gráfico 1)

- A. Nunca
- B. Marzo
- C. Abril
- D. Mayo

7. El mánager de The Kicking Kangaroos está preocupado porque el número de CD que han vendido disminuyó de febrero a junio. ¿Cuál es el número de ventas estimado para julio si continúa la misma tendencia negativa? (Gráfico 1)

- A. 70
- B. 370
- C. 670
- D. 1.340

8. Helen tiene una nueva bicicleta con un velocímetro en el timón que le puede decir su velocidad promedio en un viaje. En un viaje, Helen manejó 4 km. en sus primeros 10 minutos y luego 2 km. en los siguientes 5 minutos. ¿Qué oración es verdadera?

- A. La velocidad promedio fue mayor en los primeros 10 minutos que en los siguientes 5 minutos.
- B. La velocidad promedio fue la misma en los primeros 10 minutos y en los siguientes 5 minutos.
- C. La velocidad promedio fue menor en los primeros 10 minutos que en los siguientes 5 minutos.
- D. No es posible decir nada sobre la velocidad de Helen con esta información.

9. Chris ha recibido una licencia para conducir y quiere comprar su primer carro. La tabla muestra los cuatro carros que ella encontró en una tienda local. ¿Qué carro tiene menor capacidad? (Gráfico 2)

- A. Alpha
- B. Bolte
- C. Castel
- D. Dezal

10. Una puerta giratoria tiene tres divisiones que giran en círculos. El diámetro interior del espacio es de 2 metros (200 centímetros). Las tres puertas dividen el espacio entre tres sectores iguales. El gráfico muestra las puertas en tres posiciones diferentes vistas desde arriba. (Gráfico 3)

¿Cuánto mide (en grados) el ángulo formado por dos hojas de la puerta? **COMPLETA**

Medida del ángulo: _____ grados

11. Si la puerta da cuatro vueltas en un minuto y en cada sección hay espacio para un máximo de dos personas, ¿cuál es el máximo número de personas que puede entrar en el edificio por esta puerta en 30 minutos? (Gráfico 3)

- A. 60
- B. 180
- C. 240
- D. 72

Texto 3

AVISO EN EL SUPERMERCADO

Galletas rellenas de chocolate

Fecha de la alerta: 4 de febrero

Nombre del fabricante: Fine Foods Ltd

Información sobre el producto: Galletas rellenas de chocolate, 125 g (Consumir preferentemente antes del: 18 de junio y Consumir preferentemente antes del: 1 de julio).

Detalles: algunas galletas de estos lotes pueden contener trazas de cacahuete, que no están incluidas en la lista de ingredientes. Las personas alérgicas a los cacahuetes no deben comer estas galletas.

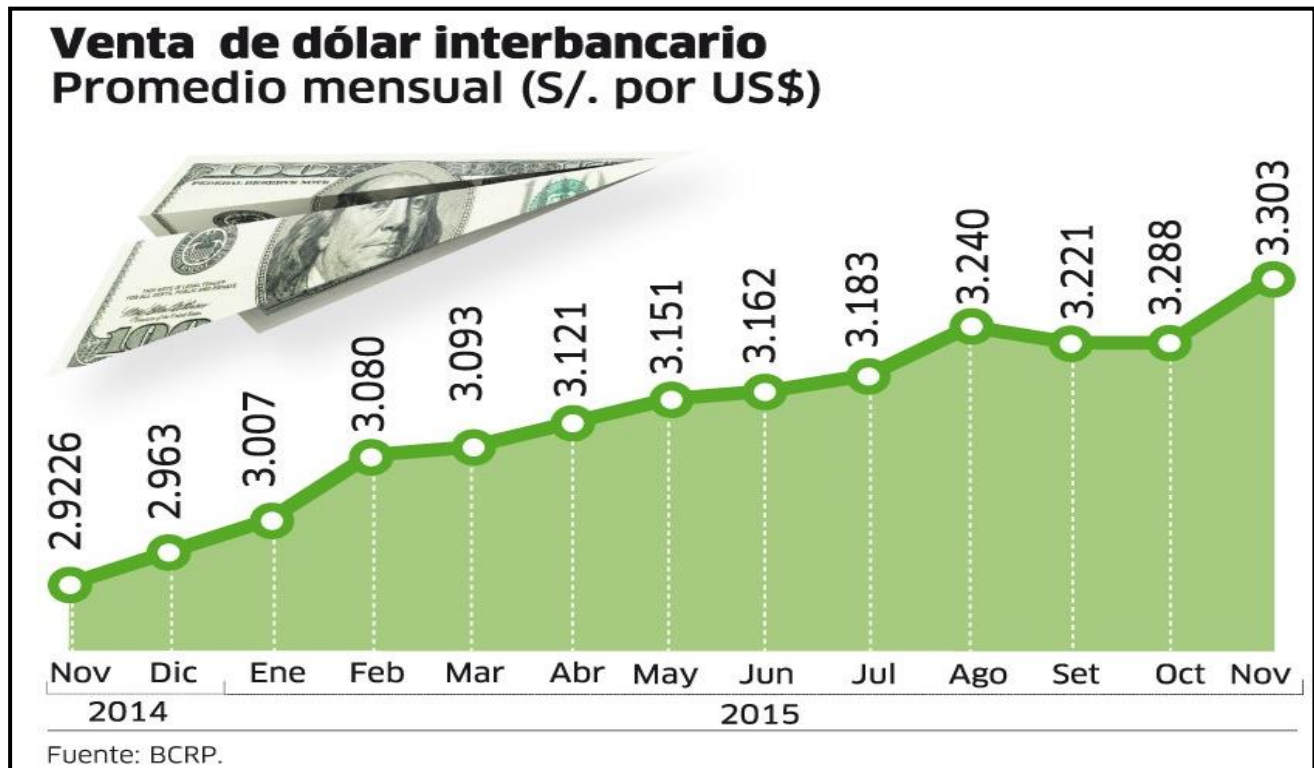
Actuación por parte del consumidor: si ha comprado estas galletas puede llevarlas al lugar donde las adquirió para que le devuelvan el dinero, o llamar al 900 32 33 34 para más información

Este aviso estuvo expuesto en un supermercado.

12. ¿Cuál es la finalidad del aviso?

- A. Hacer publicidad de las galletas rellenas de chocolate.
- B. Indicar a las personas cuándo se elaboraron las galletas.
- C. Prevenir a las personas acerca de las galletas.
- D. Explicar dónde comprar galletas rellenas de chocolate.

MARCA CON UNA (X) la respuesta correcta, luego de analizar los textos: “Venta de dólar interbancario” y “Modalidades de jubilación”



13. ¿Qué tipo de texto es?

- a) Continuo
- b) Discontinuo
- c) Poético
- d) Descriptivo

14. El análisis que evidencia el cuadro es:

- a) Mensual
- b) Trimestral
- c) Bimestral
- d) Anual

15. Se puede afirmar lo siguiente, luego de analizar el cuadro:

- a) En noviembre del 2014 la venta del dólar fue menor a la de octubre del 2015.
- b) La venta del dólar cayó considerablemente en el mes de agosto.
- c) El dólar tuvo una especial caída en el ámbito internacional.
- d) En el mes de mayo la venta de dólar interbancario fue de 3.183%

16. La edad para JUBILARSE en el Perú según lo que informa el texto es:

- a) 65 años
- b) 60 años
- c) 45 años
- d) 80 años

17. La renta vitalicia familiar se otorga:

- a) Hasta que el afiliado fallezca.
- b) Hasta que el afiliado o pensionista cubra el monto máximo de depósito.
- c) Hasta que el pensionista cubra las necesidades familiares.
- d) Hasta que el afiliado llegue a obtener 30 años de servicio.

18. El texto “Modalidades de Jubilación” afirma que:

- a) La propuesta de modalidad fue aceptada por la comisión de economía del congreso de la república.
- b) La propuesta de modalidad fue aprobada por la comisión de atributos y servicios del personal.
- c) La renta mixta no es una modalidad de jubilación en el Perú.
- d) El retiro programado no contempla la rentabilidad y la pensión deja de recalcularse cada año.

19. No se podría afirmar de ambos textos lo siguiente:

- a) Son textos discontinuos que contienen imágenes.
- b) Son textos que ignoran la realidad en el Perú y se alejan de la problemática económica y social.
- c) Son textos que contienen imágenes, las cuales permiten visualizar los temas expuestos.
- d) Son textos que resumen el análisis de la realidad nacional.


20. El gran tema en ambos textos son: _____ y _____

21. ¿En el primer texto subyace la idea del trabajo en el Perú? _____
Escribe si estás de acuerdo o no.


22. Realiza un brevísimos ANÁLISIS de las modalidades de jubilación en el SPP (sistema de pensiones privado)

Modalidades de jubilación del SPP

Al llegar a los 65 años con un fondo acumulado de S/. 500 mil.




Retiro Programado




El afiliado conserva su fondo, que se va reduciendo según se le pague su pensión. La AFP administra el saldo de su fondo, generándole rentabilidad. La pensión se recalcula todos los años. **La pensión sería de S/. 4 mil.**

Renta Vitalicia familiar




Se otorga hasta que el afiliado fallezca. Generalmente, el monto de la pensión es menor frente al Retiro Programado. La pensión se ajusta periódicamente. **La pensión sería de S/. 3.200.**

Renta Temporal con Renta Vitalicia Diferida



Se transfiere el capital a la aseguradora a cambio de una Renta Vitalicia diferida, dejando una parte del saldo en su fondo para pagarle una pensión temporal durante 1 o 2 años bajo la modalidad de Retiro Programado.

Renta Mixta



Se transfiere una parte del capital a la aseguradora y se le otorga al afiliado **dos pensiones simultáneamente**: 50% bajo un Retiro Programado en soles y 50% bajo Renta Vitalicia Familiar en dólares.

Propuesta aprobada en la Comisión de Economía del Congreso

4,5% queda en el fondo para su atención de salud.

95,5% de su fondo podría ser retirado por el afiliado

Si tiene un fondo de S/. 500.000 su retiro sería de S/. 477.500

4,5% (S/. 22 mil 500) queda en el fondo para su atención de salud.

Fuente: Fernando Muñoz-Nájjar. / Comisión de Economía del Congreso de la República. LA REPÚBLICA

23. Crea cinco preguntas con alternativas múltiples considerando el cuadro “Modalidades de jubilación del SPP”.