





Actividad

1. Observa detenidamente cada imagen y responde:

				
Ocupación				
¿Qué recursos se emplean en cada actividad?				
¿Qué actividad económica se realiza: primaria, secundaria o terciaria?				

2. Ubica el Perú y sus límites en un mapa político.



RESPONDE:

- a) Encierra en un círculo la ubicación del Perú.
- b) ¿Cuántos países conforman América del Sur?
- c) ¿Cuáles son los países que limitan con el Perú?
- d) ¿Qué océano baña las costas del Perú?

